


Time: 10 Minutes	Paper Math 2	Total Marks: 10
6th Month, 2nd Week, 4th Day		Syllabus: Exercise # 1

Look at the 2-D shapes and fill in the blanks. (10)

2-D تصاویر کو دیکھیں اور خالی جگہ پُر کریں۔

My name is _____.



میرا نام _____ ہے۔

I have _____ sides and

میرے اضلاع اور _____

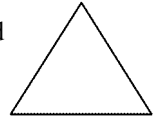
_____ vertices.

_____ کونے ہیں۔

My all sides are equal in length.

میرے تمام اضلاع لمبائی میں برابر ہوتے ہیں۔

I have _____ sides and



میرے اضلاع اور _____

_____ vertices.

_____ کونے ہیں۔

Who am I? _____

میں کون ہوں؟ _____

I am a rectangle.



میں مستطیل ہوں۔

I have _____ sides and _____ vertices.

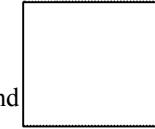
_____ اضلاع اور _____ کونے ہیں۔

Time: 10 Minutes	Paper Math 2	Total Marks: 10
6th Month, 2nd Week, 4th Day		Syllabus: Exercise # 1

Look at the 2-D shapes and fill in the blanks. (10)

2-D تصاویر کو دیکھیں اور خالی جگہ پُر کریں۔

My name is _____.



میرا نام _____ ہے۔

I have _____ sides and

میرے اضلاع اور _____

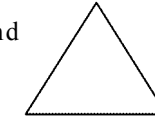
_____ vertices.

_____ کونے ہیں۔

My all sides are equal in length.

میرے تمام اضلاع لمبائی میں برابر ہوتے ہیں۔

I have _____ sides and



میرے اضلاع اور _____

_____ vertices.

_____ کونے ہیں۔

Who am I? _____

میں کون ہوں؟ _____

I am a rectangle.



میں مستطیل ہوں۔

I have _____ sides and _____ vertices.

_____ اضلاع اور _____ کونے ہیں۔
